

贴条码处

三年级数学

满分:100 分

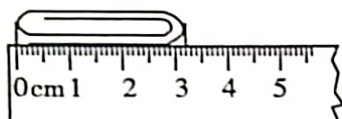
题 号	一	二	三	四	五	六	总 分
得 分							

请在各题目的答题区域内作答,超出黑色矩形边框限定区域的答案无效

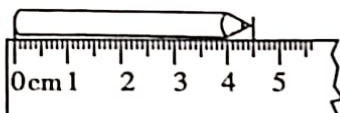
评卷人 得分

一、我会填一填。(每空 1 分,共 30 分)

1.



() 厘米 () 毫米



() 厘米 () 毫米

2. 在()里填上合适的单位。



唱一首歌用

4()



系鞋带大约用

20()



黄瓜长 25

()



大象重 5

()

3. 2 吨 = () 千克 7 厘米 = () 毫米 4 时 = () 分
100 厘米 = () 米 3 分 = () 秒 8000 米 = () 千米

4. 在○里填上“>”“<”或“=”。

1 分 24 秒 ○ 124 秒

65+18 ○ 73

480+120 ○ 600

7 分米 ○ 70 厘米

90-21 ○ 79

510-240 ○ 360

5.



(2:30)

25 分



(:)

() 分



(:)

() 分



(:)

6. 三年级同学去参观“世博会”。三(1)班有 43 人,三(2)班有 39 人。三年级一共要买 () 张门票。

7. (1)公鸡和母鸡一共有()只。

(2)母鸡比公鸡多()只。



公鸡 260 只



母鸡 450 只

请在各题目的答题区域内作答,超出黑色矩形边框限定区域的答案无效

请在各题目的答题区域内作答,超出黑色矩形边框限定区域的答案无效

8. 中心小学跑道一圈长 400 米。佳佳跑了 5 圈,他一共跑了()千米。
9. 东方明珠广播电视塔高 468 米,广州塔高 600 米。广州塔比东方明珠广播电视塔大约高()米。

评卷人	得分

二、我会判一判。(对的打“√”,错的打“×”)(5 分)

- 秒针走一圈,分针走一大格。()
- 在 108,214,392,199,201 中,接近 200 的数有 3 个。()
- 计算较重的或大宗物品的质量,通常用吨作单位。()
- 小明家距姥姥家 40 千米,他最好步行去。()
- 650-300 其实就是 65 个十减去 3 个十,结果是 62 个十是 620。()

评卷人	得分

三、我会选一选。(将正确答案的序号填在括号里)(10 分)

1. 量比较短的物体的长度或者要求量得比较精确时,可以用()作单位。

A. 千米 B. 米 C. 毫米

2. 下列算式中,得数比 500 大的是()。

A. 860-240 B. 720-250 C. 612-192

3. 右表为 3 个同学参加 50 米赛跑的成绩。()跑得最快。

A. 小军 B. 贝贝
C. 丽丽

小军	贝贝	丽丽
8 秒	7 秒	11 秒

4. 李奶奶家去年收了 660 千克苹果,今年收了 840 千克苹果。今年比去年多收了()千克。

A. 80 B. 280 C. 180

5. 一根木条用去了 35 厘米,还剩下 25 厘米。这根木条原来长()分米。

A. 6 B. 60 C. 600

评卷人	得分

四、我会算一算。(22 分)

1. 口算。(6 分)

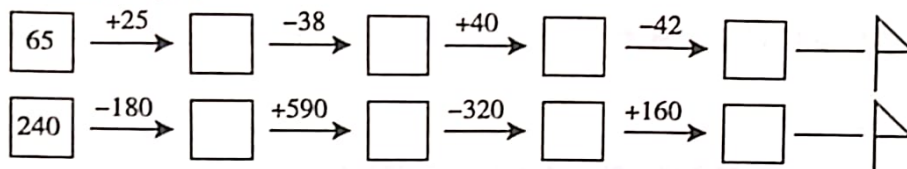
$20+60=$	$120+600=$	$48+29=$	$74+16=$
$92-70=$	$90-40=$	$88+12=$	$980-80=$
$100+400=$	$87-21=$	$800+120=$	$540-140=$

请在各题目的答题区域内作答,超出黑色矩形边框限定区域的答案无效



请在各题目的答题区域内作答,超出黑色矩形边框限定区域的答案无效

2. 夺红旗。(8分)



3. 列竖式计算。(8分)

$$450+270=$$

$$700-560=$$


$$490+280=$$

$$540-190=$$

评卷人	得分

五、我会做一做。(13分)

1. 量出每条边的长度(以毫米作单位)。(7分)



2. 画一条长4厘米6毫米的线段。(2分)

3. 连一连。(4分)



$$62+18$$



$$720-190$$



$$58-29$$



$$440+230$$

530

80

670

29

请在各题目的答题区域内作答,超出黑色矩形边框限定区域的答案无效



扫描全能王 创建

评卷人	得分

六、解决问题。(20分)

1.



45元



52元



26元

(1)轮船比汽车贵多少元?(3分)

(2)买1艘轮船和1架飞机,一共多少元?(3分)

2. 育才小学一年级有男生140人,女生150人。育才小学一年级一共有多少人?(3分)

3. 世博园里的一个纪念品商店,上午卖出410个“海宝”,下午卖出260个“海宝”。下午比上午少卖出多少个“海宝”? (3分)

4. 爸爸有600元,买这两件商品够吗?请计算说明。(4分)



392元



186元

5. 三(1)班28人去划船。如果每条船都坐满,可以怎样租船?(4分)



小船

限坐4人



大船

限坐6人



2019-2020 学年第一学期考试卷(1) 参考答案

三年级数学 (1-3 单元) 1130021016

以下答案仅供参考,部分试题可根据学生作答情况酌情给分

一、我会填一填。(每空 1 分,共 30 分)

1. 3 2 4 5 2. 分 秒 厘米 吨 3. 2000 70 240 1 180 8
4. < > = = < < 5. 2:55 15 3:10 35 3:45 6. 82
7. (1) 710 (2) 190 8. 2 9. 130

二、我会判一判。(对的打“√”,错的打“×”)(5 分)

1. × 2. √ 3. √ 4. × 5. ×

三、我会选—选。(将正确答案的序号填在括号里)(10 分)

1. C 2. A 3. B 4. C 5. A

四、我会算—算。(22 分)

1. 口算。(6 分)

80 720 77 90 22 50 100 900 500 66 920 400

2. 夺红旗。(8 分)

90 52 92 50 60 650 330 490

3. 列竖式计算。(8 分)

(竖式略) 720 140 770 350

五、我会做—做。(13 分)

1. (7 分) 24 27 20 35 22 35 22

2. (2 分) 4 厘米 6 毫米



六、解决问题。(20 分)

1. (1) (3 分) $52 - 45 = 7$ (元) 答:略
(2) (3 分) $52 + 26 = 78$ (元) 答:略
2. (3 分) $140 + 150 = 290$ (人) 答:略
3. (3 分) $410 - 260 = 150$ (个) 答:略
4. (4 分) 392 元 < 400 元 186 元 < 200 元 $400 + 200 = 600$ (元)
392 + 186 小于 600 答:够。

5. (4 分)

租船方案	大船	小船	人数
①	5	0	30 人
②	4	1	28 人
③	3	3	30 人
④	2	4	28 人
⑤	1	5	32 人
⑥	0	7	28 人

答:租船方案②④⑥都可以。

